

عدد الصفحات 4

30

الدرجة اختبار الفترة الدراسية الاولى في مادة الرياضيات

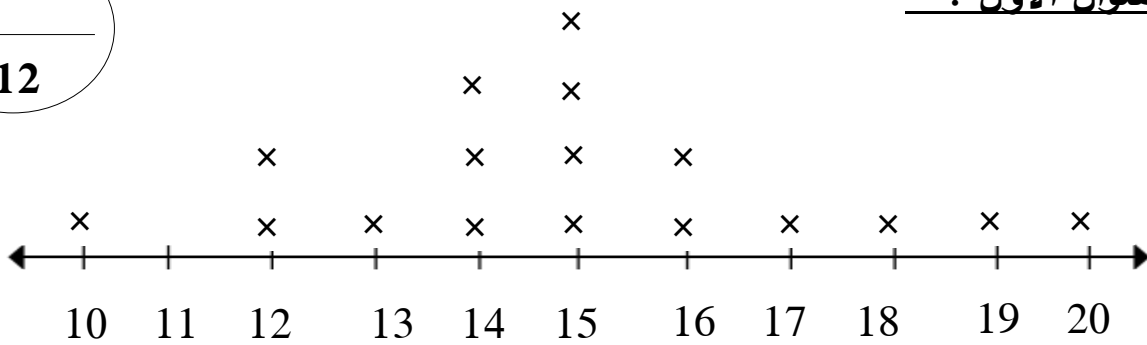
الصف الرابع الابتدائي

الصف :

اسم التلميذة :

12

السؤال الأول : -



أطوال البزاقات (سم)

المفتاح × يرمز إلى بزاقة واحدة

(أ) استخدمي التمثيل البياني بالنقاط المجمعة للإجابة على الاسئلة التالية : -

1. ما طول أقصر بزاقة ؟ _____
2. ما هو الطول الاكثر تكرارا ؟ _____
3. كم عدد البزاقات التي يبلغ طولها 11 سم ؟ _____
4. ما الفرق بين طول اطول بزاقة واقصر بزاقة ؟ _____

4

(ب) رأى احد الاطباء البيطريين في أحد الايام كلابا لها الاوزان الآتية

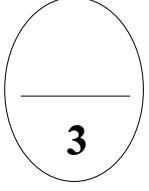
بالكيلوجرام : 3 ، 4 ، 7 ، 11 ، 11 ، 14 ، 18 ، 23 ، 35

أوجدني كلا من : -

_____ = المدى

_____ = المنوال

_____ = الوسيط



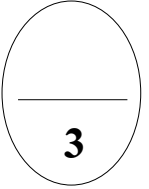
(ج) أكملني كلا مما يأتي :

1.

عدد المئات	عدد العشرات	عدد الوحدات	العدد
			6200

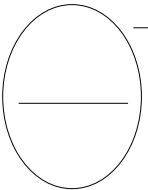
2. القيمة المكانية للرقم الذي تحته خط في العدد 9 1 2 7 7 هي _____

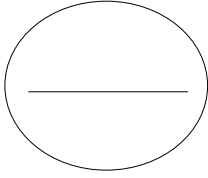
3. الاسم اللفظي للعدد 25 344 100 هو _____



4. اكتبني الوقت بطريقتين مختلفتين :

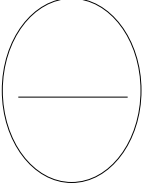






السؤال الثاني : -

(أ) كتب أحد الكتاب مسودة قصة بلغ مجموع كلماتها 1 2 5 0 كلمة
وخلال مراجعة المسودة حذف 1 1 4 كلمة فكم عدد كلمات القصة بعد
ان تم حذف بعض كلماتها ؟

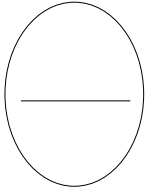


(ب) اوجدني ناتج ما يلي :

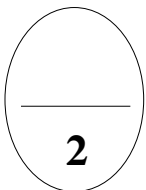
$$8 \ 4$$

$$2 \ 7$$

$$6 \ 4 \ 5 \ +$$



(ج) صنع احد مصانع القمصان اقمشة ذات لون أحمر (ح) وأزرق (ز)
وابيض (ب) ورسم عليها كرة قدم ملونة باللون الذهبي (ذ) أو فضي (ف)
فأراد مدير المصنع ان يصنع قمصانا من سبعة انواع مختلفة إما من لون القماش
او لون الكرة . فكم عدد القمصان المختلفة التي يمكن صنعها ؟



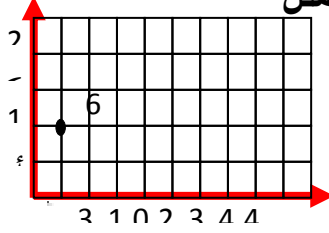
السؤال الثالث : -

12

(أ) لكل عبارة فيما يلي ظللي الدائرة (4) إذا كانت العبارة صحيحة

(3) إذا كانت العبارة خاطئة

(1) النقطة ح على شبكة الاحداثيات تمثل



الزوج المرتب (2 ، 1)

5

5

7

8

أ

9 2 5

ح

9 2 5 0(2

(ب) لكل بند فيما يلي اربع اختيارات اختاري الاجابة الصحيحة وظلي الدائرة

الدالة عليها : -

(1) عدد ايام السنة الكبيسة =

3 5 5

4

3 5 4

=

3 6 6

أ

3 6 5

ب

(2) $4000 - 6000 =$

10000

د

2 0

ج

2 0 0

ب

2 0 0 0

أ

(3) قيمة المتغير ن في الجملة العددية $9 + 12 =$ هو

5

د

4

ج

2

ب

3

أ

(4) شهران < -----

90 يوم

د

3 سنوات

ج

4 اسابيع

ب

12 اسبوع

أ

أ