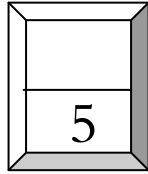


المجموع	الصف / 7	الرقم	اسم الطالب
30			
		الثالث	السؤال
			الدرجة

السؤال الأول :

أ استخدم مخطط الساق والأوراق المقابل للإجابة على الأسئلة التالية :

الساق	الأوراق
2	1 3 8
3	0 2 4 4
4	3 3 3 5
5	2 9



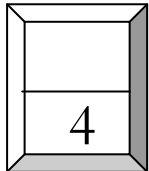
(1) ما مدى هذه القيم...38...

(2) المتوال هو43.....

(3) كم عدد مرات ظهور القيمة 34 ...2...

(4) ما القيمة الأصغر من 30 مباشرة من هذه البيانات ..28.

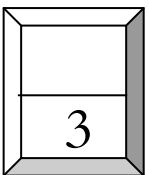
(5) ما الوسيط لهذه البيانات34.....



ب (1) أوجد ناتج :

$$= (14 -) - 29 -$$

15-



(2) اكتب الإسم اللفظي الموجز للعدد :

30 080 705

30 مليون و 80 ألفا و 705

12

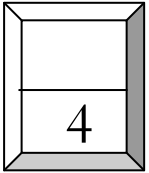
السؤال الثاني :

3

أكمل الجدول التكراري التي حيث يمثل الأوزان (بالكيلوجرام) لتلاميذ أحد الصفوف

أ

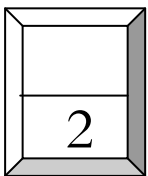
التكرار	العلامات التكرارية	الوزن بالكجم
...9...	//// /	56
4////.....	58
.....3.....	////	60
8/// ###.....	62



(ب) حل المعادلة :

$$18 = 5 + س$$

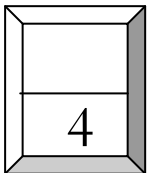
$$س = 13$$



(ج) (1) أوجد العدد الناقص في النمط التالي :

..... ، 24 ، 19 ، 15 ، 12 ، 10

30



(2) أوجد ناتج :

$$8 - 5 \times 2 + 2^3$$

11

12

السؤال الثالث :

ظلل أ إذا كانت العبارة صحيحة . وظلل ب إذا كانت العبارة غير صحيحة .

ب	<input checked="" type="radio"/>	المتوسط الحسابي لمجموعة البيانات 5 ، 1 ، 4 ، 3 ، 2 هو 3	1
ب	<input checked="" type="radio"/>	ان ناتج $4 \times 2^3 < 5 \times 3^2$	2

في البنود من (4-7) لكل بند أربع اختيارات ظلل دائرة الاختيار الصحيح فقط :

القيمة المتطرفة للقيم : 5 ، 50 ، 8 ، 7 ، 6 ، 5 ، 6 هي ...	أ <input type="radio"/> 5	<input checked="" type="radio"/> 50	ج <input type="radio"/> 6	د <input type="radio"/> 8	3
مجموعة الأعداد الصحيحة والمرتبة ترتيباً تصاعدياً هي	<input checked="" type="radio"/> $7 ، 0 ، 3^- ، 5^-$	ب <input type="radio"/> $8 ، 7 ، 6^- ، 5$	ج <input type="radio"/> $9 ، 3^- ، 6^- ، 7$	د <input type="radio"/> $7 ، 0 ، 5^- ، 3^-$	4
العدد الذي يأتي تالياً في النمط : 5 ، 9 ، 8 ، 12 ، 11 ، 15 ، 14 هو	<input checked="" type="radio"/> 18	ب <input type="radio"/> 17	ج <input type="radio"/> 16	د <input type="radio"/> 19	5
ناتج : $560000 \div 80 =$	أ <input type="radio"/> 700000	<input checked="" type="radio"/> 7000	ج <input type="radio"/> 70000	د <input type="radio"/> غير ذلك	6