

بنك أسئلة للصف الأول :

(1) أكمل بكتابة رموز الأعداد :

\_\_\_\_\_ \* 10 و 0 تكونان \_\_\_\_\_

\_\_\_\_\_ \* 20 و 10 تكونان \_\_\_\_\_

\_\_\_\_\_ \* 10 و 10 تكونان \_\_\_\_\_

\_\_\_\_\_ \* 40 و 10 تكونان \_\_\_\_\_

\_\_\_\_\_ و \_\_\_\_\_ تكونان \_\_\_\_\_ أربعة عشر

\_\_\_\_\_ و \_\_\_\_\_ تكونان \_\_\_\_\_ خمسة عشر




\_\_\_\_\_ 60 و 10 تكونان \_\_\_\_\_

\_\_\_\_\_ 40 و 10 تكونان \_\_\_\_\_

18 تسعة عشر

10 و \_\_\_\_\_ تكونان \_\_\_\_\_

(2) قدر العدد . ثم حوّل رمز العدد :



تقريباً 3 20 10

(3) إقرأ التمثيل البياني ثم أجب عن الأسئلة :

مجموعة الدنانير التي مع التلاميذ علي ومحمد	
علي	
محمد	

- من لديه أكبر عدد من الدنانير ؟ -----

- كم ديناراً عند محمد ؟ -----

(4) باستخدام العد بالإثنين أكمل :

\* 2, 4, 6 ، ... ، ...

\* 10, 12, ----- , ----- , 18 , -----

(5) باستخدام العد بالخمس أكمل :

\* 5, 10, 15, ... ، ...

\* 20, 25 ، .... ، .... ، ....

(6) باستخدام العد بالعشرات أكمل :

\* 10, 20, 30, ...

\* 30, 40, ، 0000

(7) أكتب الآحاد والعشرات ثم حوّل رمز العدد الأكبر :

36 ——— آحاد و ——— عشرات

51 ——— آحاد و ——— عشرات

---

47 ——— آحاد و ——— عشرات

56 ——— آحاد و ——— عشرات

---

34 ——— آحاد و ——— عشرات

76 ——— آحاد و ——— عشرات

---

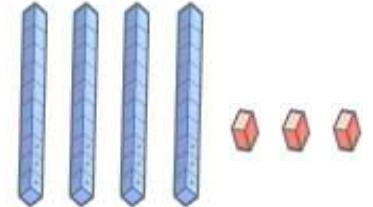
80 ——— آحاد و ——— عشرات

58 ——— آحاد و ——— عشرات

(8) عدّ الوحدات والعشرات ، ثم اكتب رمز العدد المناسب :

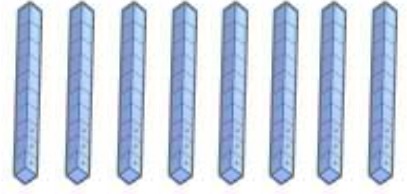
\_\_\_\_\_

عشرات	آحاد



---

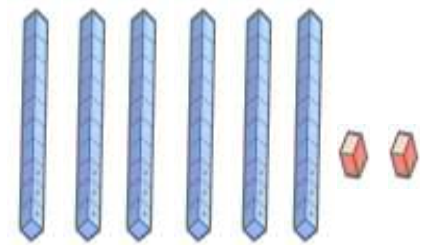
عشرات	آحاد



\_\_\_\_\_

\_\_\_\_\_

عشرات	آحاد



\_\_\_\_\_

(9) اكتب الآحاد والعشرات، وحوط رمز العدد الأصغر

23    آحاد \_\_\_\_\_ عشرات \_\_\_\_\_

45    آحاد \_\_\_\_\_ عشر \_\_\_\_\_

(10) اكتب العدد الذي يليه بواحد (بعده بواحد)

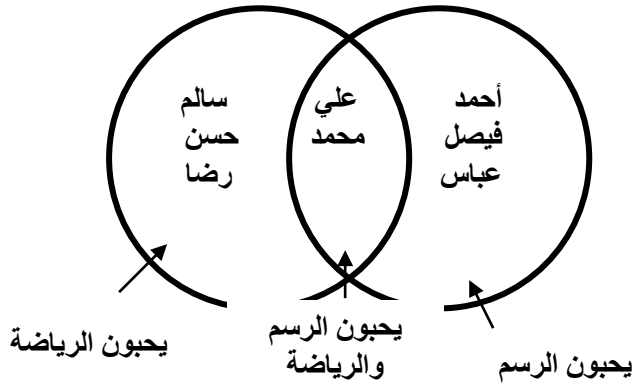
\_\_\_\_\_ 41  
\_\_\_\_\_ 50

\_\_\_\_\_ 73  
\_\_\_\_\_ 89

(11) اكتب رموز الأعداد التي تأتي بين العددين

85 ، \_\_\_\_\_ ، \_\_\_\_\_ ، 82  
72 ، \_\_\_\_\_ ، \_\_\_\_\_ ، 69

(12) كتب التلاميذ أسمائهم في الدائرتين .

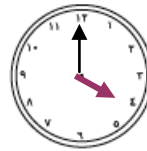
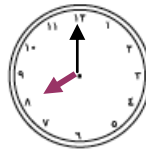
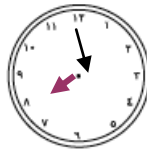
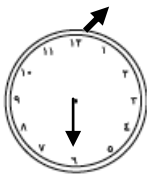


1 - كم عدد التلاميذ الذين يحبون الرسم ؟ \_\_\_\_\_

2 - ماذا يحب حسن ؟ \_\_\_\_\_

3 - ما أسماء التلاميذ الذين يحبون الرسم والرياضة ؟ \_\_\_\_\_

(13) اكتب الوقت الذي تشير إليه الساعة



الساعة : \_\_\_\_ : \_\_\_\_ : \_\_\_\_ : \_\_\_\_ : \_\_\_\_

(14) تناول أحمد فطوره الساعة 9 : 00

تناول سالم فطوره الساعة 8 : 30

تناول حسن فطوره الساعة 8 : 00

ما اسم آخر من تناول الفطور ؟ \_\_\_\_\_

(15) في أي شهر يصوم المسلمون ؟ \_\_\_\_\_

(16) تبدأ حصة الرياضيات عند الساعة 10 : 00 أما حصة العلوم فتبدأ بعد حصة الرياضيات ، وتبدأ حصة الرسم بعد حصة العلوم . أي الحصص هي الأخيرة منها ؟

(17) إجمع

$$\begin{array}{r} 4 \\ 6 \\ \hline 2 + \\ \square \end{array}$$

$$\begin{array}{r} 3 \\ 1 \\ \hline 7 + \\ \square \end{array}$$

$$\begin{array}{r} 5 \\ 3 \\ \hline 1 + \\ \square \end{array}$$

$$\begin{array}{r} 5 \\ 3 \\ \hline 5 + \\ \square \end{array}$$

$$\begin{array}{r} 2 \\ 8 \\ \hline 5 + \\ \square \end{array}$$

$$\begin{array}{r} 2 \\ 5 \\ \hline 2 + \\ \square \end{array}$$

$$\begin{array}{r} 1 \\ 1 \\ \hline 7 + \\ \square \end{array}$$

$$\begin{array}{r} 3 \\ 3 \\ \hline 7 + \\ \square \end{array}$$

$$\begin{array}{r} 5 \\ 2 \\ \hline 5 + \\ \square \end{array}$$

$$\begin{array}{r} 1 \\ 3 \\ \hline 4 + \\ \square \end{array}$$

(18) أرسم   لتبين العبارات الجمع


$$\underline{\quad} = 2 + 9$$

$$\underline{\quad} = \underline{\quad} + 10$$


$$\underline{\quad} = 4 + 7$$

$$\underline{\quad} = \underline{\quad} + 10$$

(19) أكمل

$$\text{○} = 7 - 15$$

$$\text{○} = 7 + 8$$

$$\text{○} = 8 - 15$$

$$\text{○} = 8 + 7$$

$$\text{○} = 9 - 16$$

$$\text{○} = 9 + 7$$

$$\text{○} = 7 - 16$$

$$\text{○} = 7 + 9$$

$$\begin{array}{r} 11 \\ 8- \\ \hline \end{array}$$

$$\begin{array}{r} 17 \\ 9- \\ \hline \end{array}$$

$$\begin{array}{r} 15 \\ 7- \\ \hline \end{array}$$

$$\begin{array}{r} 17 \\ 8- \\ \hline \end{array}$$

$$\begin{array}{r} 12 \\ 9 \\ \hline \end{array}$$

$$\begin{array}{r} 16 \\ 8 \\ \hline \end{array}$$

$$\begin{array}{r} 14 \\ 5- \\ \hline \end{array}$$

$$\begin{array}{r} 13 \\ 6- \\ \hline \end{array}$$

(20) عند محمد 16 كرة صغيرة

أهدى زميلة أحمد 6 كرات .

كم كرة بقيت عند محمد ؟

$$\text{○} = \text{○} - \text{○}$$

بقي عند محمد \_\_\_\_\_ كرات.

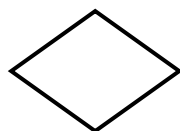
(21) اجمع :

عشرات	آحاد
5	5
3	4+

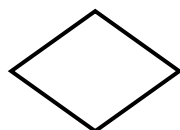
عشرات	آحاد
4	7
2	0+

عشرات	آحاد
2	0
2	6+

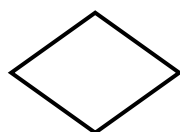
عشرات	آحاد
9	8
	1+



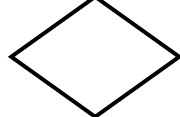
$$= 24 + 35$$



$$= 70 + 26$$



$$= 6 + 18$$



$$= 8 + 19$$



عشرات	آحاد
4	7
2	6 -

عشرات	آحاد
8	9
3	5 -

عشرات	آحاد
6	2
1	1 -

عشرات	آحاد
5	4
3	0 -

$$\underline{\quad} = 16 - 38$$

$$\underline{\quad} = 8 - 51$$

$$\underline{\quad} = 9 - 25$$

$$\underline{\quad} = 21 - 33$$

$$\underline{\quad} = 77 - 96$$

$$\underline{\quad} = 5 - 24$$

الموجه الفني  
كارم عطية

مديرة المدرسة  
صفاء البدر

رئيسة القسم  
فاطمة العتيبي

إعداد  
جيهان محمد

الموجهة الأولى للرياضيات / حصة يونس العلي