

6

السؤال الأول :

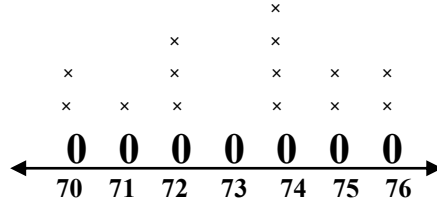
أ) ظللي ( أ ) إذا كانت الإجابة صحيحة و ( ب ) إذا كانت الإجابة خاطئة :-

أ	ب
---	---

1) اليوم الواحد به 24 ساعة .

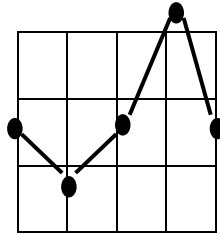
2) عدد التلميذات اللاتي يبلغ طولهن 73 سم هو 4 .

أ	ب
---	---



أطوال التلميذات

أ	ب
---	---



3) الرسم التالي يمثل التمثيل البياني بالخطوط .

3

ب) اختاري الإجابة الصحيحة :-

1) إذا كان العدد الداخل 9 و العدد الخارج 7 فإن القاعدة هي :

أ)  $2 - 9$       ب)  $2 + 9$       ج)  $7 + 9$

2) عدد العشرات في العدد ( 100 ) هو :

أ) 1      ب) 10      ج) 100

3) القيمة المكانية للرقم 4 5 6 7 3 هي :

أ) 50      ب) 500      ج) 5000

3

6

السؤال الثاني :

أ) ضعي < أو > أو = :

1

78 356 ○ 78 635

7 911 ○ 79 115

ب) رتبي الأعداد ترتيبا تصاعديا :

653 104

563 410

635 104

365 401





1

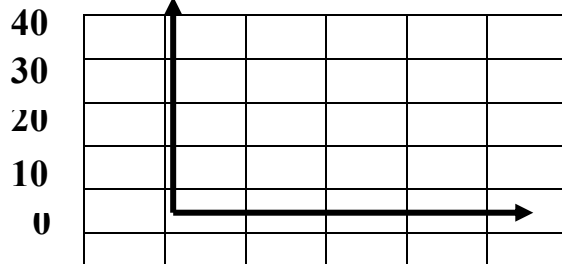
ج) اكتب الاسم اللفظي للعدد :

56 740 210

1

د) اصنع تمثيلا بيانيا بالأعمدة لتوضحي :

اسم السمكة	طولها
شعري	10 سم
سردين	25 سم



شعري سردين

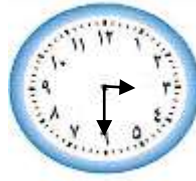
1

هـ) إذا كان مجموع عمري كل من هدى و منى 17 سنة ، و الفرق بينهما هو 3 سنوات .  
ما عمر كل منهما ؟

عمر منى

عمر هدى

1



و) اكتب الوقت

1

6

السؤال الثالث :

أ) أوجد المدة :

15 : 11 ق . ظ إلى 15 : 3 ب . ظ المدة

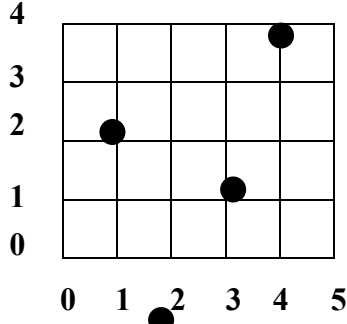
1

ب) أكمل الفراغ :

الفرق بين أكبر قيمة و أصغر قيمة في البيانات هو .....  
أما العدد الأكثر تكرارا فهو .....

1

ج) استخدم شبكة الإحداثيات لتسمية الزوج المرتب لكل نقطة :



أ ( ، ) ج ( ، )

سمي النقطة التي يحددها الزوج المرتب التالي :

( 4 ، 4 )

( 0 ، 5 )

3

هـ) إذا كانت  تمثل 10 تفاحات فإن :

تمثل



تمثل



1

6

السؤال الرابع :

أ) أوجدني : الوسيط :

المنوال :

15	14	13	12	11	العدد
2	3	1	2	1	التكرار

1

ب) اكتب رمز العدد :

ثلاثمائة وخمسون مليوناً وستمائة وعشرون ألفاً وأربعمائة وثلاثة وعشرون

2

خمسة ملايين وأربعمائة وخمسون ألفاً وسبعة

ج) أكمل الفراغ :

إذا كان لدينا مجموعة مكونة من أربعة ألوان أحمر ( ح ) أخضر ( خ ) أزرق ( ز ) أصفر ( ص )  
وأردنا تكوين ثنائيات فإن عدد الثنائيات التي سنحصل عليها هو .....

1


د) قربي الأعداد الآتية :

لأقرب ألف 1 2 3 4

لأقرب مئة 3 7 5

2

6



السؤال الخامس :

أ) من الرسم بالأعمدة أوجدي :

1) ما أطول الزواحف من التمثيل ؟ 2) ما طول التمساح ؟ 3) ما مجموع طول الثعبان والتمساح ؟ 

3


ب) اكتب عدد أكبر من العدد 70 000 وفي الوقت نفسه أصغر من العدد 71 000

1

ج)

1) اذكر اسم الشهر الذي عدد ايامه 28 يوم ؟ 2) إذا كان اليوم هو 5 أكتوبر فكم يكون التاريخ بعد أسبوعين ؟ 

2



الدرجة :

توقيع ولي الأمر

توقيع رئيسة القسم

وجدان عثمان