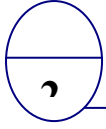
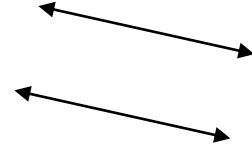
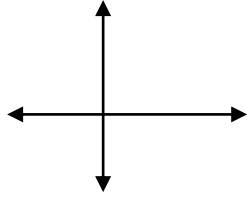


(1)

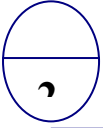
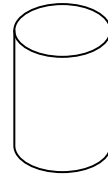
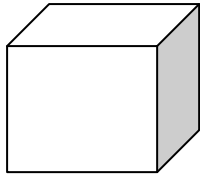
10 - (أ) (1) اكتب اسم كل من زوج من المستقيمان " متقاطعان " أو " متوازيان " أو " متعامدان " :-



.....

.....

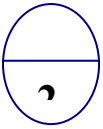
(2) اكتب اسم المجسم الهندسى :-



.....

.....

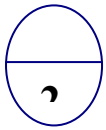
(ب) (1) ضع الكسر التالي فى أبسط صورة :-



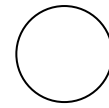
$$= \frac{4}{10}$$

$$= \frac{15}{18}$$

(2) أكمل باستخدام رمز العلاقة المناسب (= ، > ، <) :-

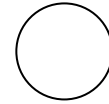


$$\frac{7}{10}$$



$$\frac{1}{2}$$

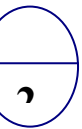
$$\frac{3}{5}$$



$$\frac{6}{5}$$

(ج) أمضى سليمان $\frac{1}{2}$ ساعة فى حل مسائل الرياضيات ، $\frac{1}{4}$ ساعة فى مراجعة درس العلوم .

ما المدة التى أمضاها سليمان فى حل المسائل ومراجعة درس العلوم ؟



(2)

(3)

تابع : اختبار الفترة الدراسية الرابعة – رياضيات – الصف الرابع – 2012/2011 - الورقة الرابعة

السؤال الرابع :

(أ) رتب تصاعدياً الأعداد العشرية التالية : -

10

3, 5 ، 3, 71 ، 3, 17

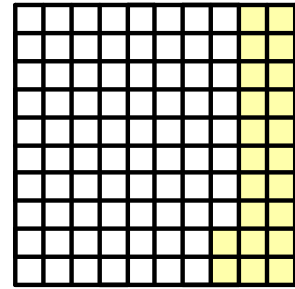
--	--	--

3

(ب) 1- اكتب ما يلي في صورة عدد عشري :-

أربعة صحيح وثلاثة عشر جزءاً من مئة

$$\dots = \frac{8}{10}$$



.....

3

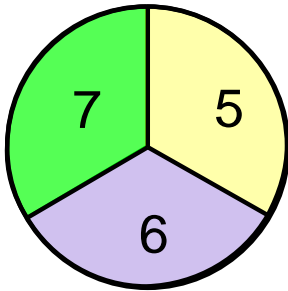
(2) أكمل ما يلي :-

8 كجم = جم

12000 مل = لتر

2

(ج) استخدم الدائرة للأجابة عن الأسئلة التالية :-



اكتب احتمال حدوث كل مما يلي :-

*التوقف عند العدد 6 :


*التوقف عند عدد فردي :

2

(أ) : في البنود من (3:1) ظلل (أ) إذا كانت العبارة صحيحة أو (ب) إذا كانت العبارة غير صحيحة :

10	1	40 سم = 4 م	أ	ب
	2	يلعب جاسم وصلاح لعبة رمى النقود المعدنية 10 مرات ، يسجل جاسم نقطة عند ظهور الصورة ويسجل صلاح نقطة عند ظهور الكتابة . تعتبر هذه اللعبة عادلة	أ	ب
	3	المثلث الذى أطوال أضلاعه 2 سم ، 5 سم ، 2 سم مثلث متطابق الضلعين	أ	ب

(ب) : في البنود من (6 : 4) ظلل الدائرة الدالة على الإجابة الصحيحة :

4	العدد 123 يقبل القسمة على	أ	ب	ج	6
5	$4000 \div 80 = 500$	أ	ب	ج	5000
6	الشكل الرباعي الموضح هو : 	أ	ب	ج	مربع
7	احتمال ظهور العدد 4 عند رمى المكعب مرقم الأرقام الآتية 1، 2، 3، 4، 5، 6 هو : -	أ	ب	ج	$\frac{1}{6}$
8	$\frac{9}{4} = 1\frac{2}{4}$	أ	ب	ج	$2\frac{1}{4}$
9	$\frac{1}{4} + \frac{1}{2} = \frac{3}{4}$	أ	ب	ج	$\frac{2}{4}$
10	أفضل وحدة لقياس طول ملعب هو	أ	ب	ج	4 كم

