

الاسم :  
الصف : 15

اختبار الرياضيات الثاني للصف الخامس الابتدائي  
للفترة الدراسية الأولى الفصل الدراسي الأول  
2012 - 2011

وزارة التربية  
منطقة العاصمة التعليمية  
مدرسة العدلية الابتدائية بنات

السؤال الأول :

12

أكتب رمز العدد

ثلاثمئة مليار وسبعمئة

أكتب الاسم المطول للعدد

= 3 604 700

4

قرب العدد الآتي لأقرب مئة ألف :

812 768



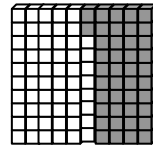
5 999 675

أكتب رمز العلاقة < أو > أو = :

0.99  1.0

0.04  0.4

أكتب رمز العدد العشري الممثل أمامك:



أوجد ناتج كل مما يلي :

$$= 8 543 - 9 074$$

$$= 9.6 + 4.05$$

5

ب

السؤال الثاني :

أ

أوجدني الناتج :

12

--

$$= 4 \div 32$$

--

$$= 8 \div 24$$

أقسمي واستخدمي الضرب للتحققي :

التحقق :

$$= 5 \div 67$$

4

--

--

ب

أوجدني ناتج الضرب :

--

$$= 1\,000 \times 8.3$$

--

$$= 10 \times 0.60$$

--

$$= 100 \times 4.9$$

$$\begin{array}{r} 432 \\ \underline{\quad 6 \times} \end{array}$$

4

--

ج

أوجدني ناتج الضرب :

--

$$= 0.02 \times 0.07$$

--

$$= 1.2 \times 3.41$$

4

6

ظلي أ إذا كانت الإجابة صحيحة و ب إذا كانت الإجابة خاطئة :

(1) الكسر المكافئ للكسر العشري 0.60 هو 0.6

(2) المضاعف المشترك الأصغر للعددين 4 ، 6 هو 24

ب

أ

ب

أ

2

ب

اختاري الإجابة الصحيحة :

(1) ناتج طرح 0.56 - 0.3 هو

أ) 0.53      ب) 0.26      ج) 0.59      د) 0.8

(2)  $30 = 7 \div \square$ 

أ) 21      ب) 2100      ج) 210      د) 2100

(3)  $10 = 10000 \div n$  فإن قيمة المتغير n هي :

أ) 3      ب) 4      ج) 5      د) 10

(4) ثمن الفستان الواحد 22.5 فما ثمن 3 فساتين ؟

أ) 67.5      ب) 6.75      ج) 675      د) 0.675

مديرة المدرسة : صبيحة العمر

رئيسة القسم : أسماء الشمري

إعداد المعلمة : نادية السليم

30