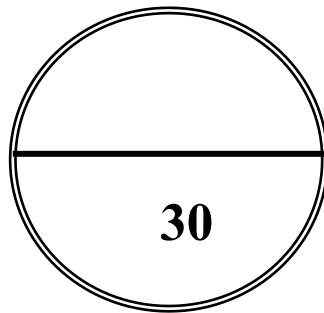


الاسم:
الصف :

اختبار الفترة الدراسية الأولى
لمادة الرياضيات
للعام 2011 - 2012 م
للصف السادس المتوسط


السؤال	الدرجة	المصحح	المراجع
الأول			
الثاني			
الموضوعي			
المجموع			



الدرجة النهائية :

توقيع رئيس القسم

المادة : رياضيات
الصف : السادس
الزمن : 45 دقيقة



امتحان الفترة الأولى
العام الدراسي
2011-2012

وزارة التربية
الإدارة العامة لمنطقة العاصمة التعليمية
مدرسة حمود السعدون م. بنين



الرقم :

الصف : 6/

اسم الطالب :

السؤال الأول:- (أ)

لتكن القيم التي تمثل درجات 8 تلاميذ هي: 4 ، 9 ، 5 ، 9 ، 8 ، 6 ، 6 ، 9

أولاً : أوجد

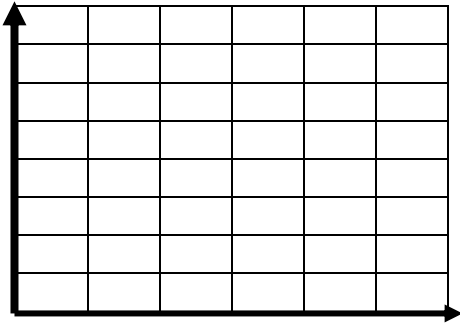
(1) المتوسط الحسابي =

(2) المدى =

(3) الوسيط =

(4) المنوال =

12



ثانياً: الجدول أدناه يبين عدد الزائرين

للمدينة الترفيهية:

أصنع تمثيلاً بيانياً بالخطوط البيانية

عدد الزائرين للمدينة الترفيهية	الايام
600	الخميس
500	الجمعة
700	السبت
300	الاحد

6

ب

أولاً: اكتب العدد 6 002 107 805

(1) الاسم المطول:

(2) مقرباً للمنزلة التي تحتها خط هو

ثانياً : أكتب العدد 19.0087

بالشكل الموجز:

ثالثاً : رتب الاعداد التالية تنازلياً:

1,7 , 0,09 , 1 , 0,89

6

السؤال الثاني: - (أ)

17

أولاً : اوجد قيمة كل من التعبيرين التاليين:

(1) $5 \times ل$ حيث $ل=6$
(2) $هـ + 20$ حيث $هـ=7$

ثانياً : اوجد ناتج كلا ممايلي:

$$= 2,1 \times 42,7$$

$$\begin{array}{r} 455 \\ \underline{13} \end{array}$$

6

ب) قدر الناتج باستخدام التقريب ثم اوجد ناتج الجمع والطرح الدقيق فيمايلي:

$$\begin{array}{r} 25,17 \\ \underline{4,91} \end{array} -$$

$$\begin{array}{r} 18351 \\ 6640 \\ \underline{97051} \end{array} +$$

3

ج) أولاً: قدر ناتج الضرب التالي:

$$8,1 \times 71,3 \text{ ت } \dots\dots\dots$$

ثانياً : أراد سالم توزيع حمولة قدرها 62,5 طنا على 5 شاحنات بالتساوي فكم ستكون حمولة كل من هذه الشاحنات؟

3

السؤال الموضوعي

أولاً : في البنود من (1-2) ظلل (أ) إذا كانت العبارة صحيحة . وظلل (ب) إذا كانت العبارة خاطئة :-

1	القيمة المكانية بالشكل الموجز للرقم 9 في العدد 410 097 512 هي 9 آلاف	أ <input type="radio"/> ب <input type="radio"/>
2	$9710 = 1000 \times 97,1$	أ <input type="radio"/> ب <input type="radio"/>

ثانياً : في البنود من (3-6) لكل بند أربعة اختيارات واحدة منها صحيحة ظلل الحرف الدال عليها :-

3	علامات العد التالية : $//////$ $////$ $////$ $////$ تعبر عن تكرار قدره :	أ <input type="radio"/> 12 ب <input type="radio"/> 11 ج <input type="radio"/> 9 د <input type="radio"/> 10
4	قيمة المتغير ن في التعبير الرياضي $8 - ن = 2$ هي :	أ <input type="radio"/> 4 ب <input type="radio"/> 1 ج <input type="radio"/> 7 د <input type="radio"/> 6
5	$= 7 \times 2 + 5$	أ <input type="radio"/> 19 ب <input type="radio"/> 31 ج <input type="radio"/> 49 د <input type="radio"/> 28
6	$= 100 \div 68,81$	أ <input type="radio"/> 688,1 ب <input type="radio"/> 6,881 ج <input type="radio"/> 0,6881 د <input type="radio"/> 688