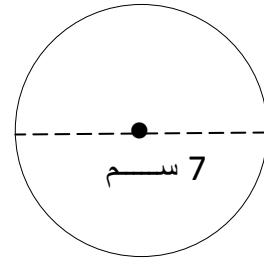
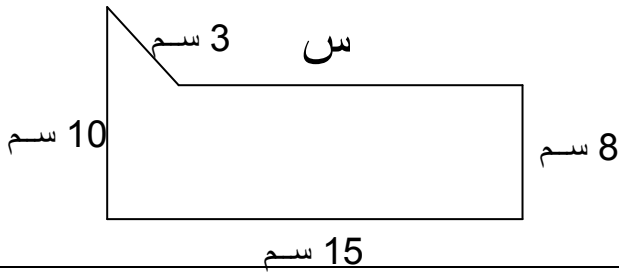


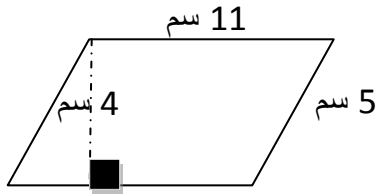
أوجدي مساحة متوازي الأضلاع المرسوم؟



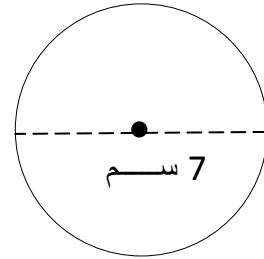
أوجدي محيط الدائرة حيث طول قطرها 7 سم؟



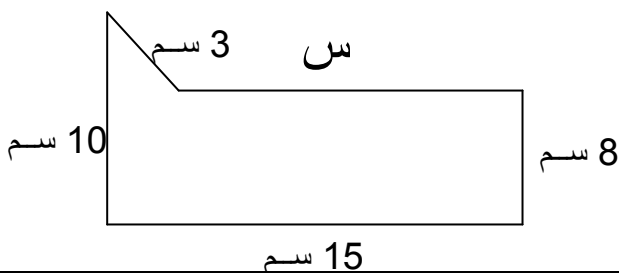
إذا علمت أن محيط الشكل المرسوم يساوي 48 سم .  
أوجدي قيمة س ؟



أوجدي مساحة متوازي الأضلاع المرسوم؟



أوجدي محيط الدائرة حيث طول قطرها 7 سم؟



إذا علمت أن محيط الشكل المرسوم يساوي 48 سم .  
أوجدي قيمة س ؟