

وزارة التربية
منطقة العاصمة التعليمية
مدرسة أم عطية الأنصارية بنات
اختبار الرياضيات الأول للصف الرابع الابتدائي
للفترة الدراسية الأولى الفصل الدراسي الأول
الاسم / الصف: 4 /
2012 - 2011
س1: استخدمى البيانات لأوزان الهرة بالكيلو للإجابة عن الأسئلة :

10	10	9	9	9	8	7	6	6	5	5
----	----	---	---	---	---	---	---	---	---	---

أوجدى الوسيط لأوزان الهرة :

أوجدى المنوال لأوزان الهرة:

أوجدى المدى لأوزان الهرة:

س2 : أكتبى رمز العدد :
خمس مائتين ومئة ألف
مئتان وثلاثة عشر ألف وأربعمائة وخمسة وثمانون

س3: أكمل الجدول وكتبى القاعدة مستخدمة المتغير :
القاعدة مستخدمة المتغير :

8	10	5	4	3	6	1	الداخل
							الخارج

س4 : استخدمى شبكة الإحداثيات :

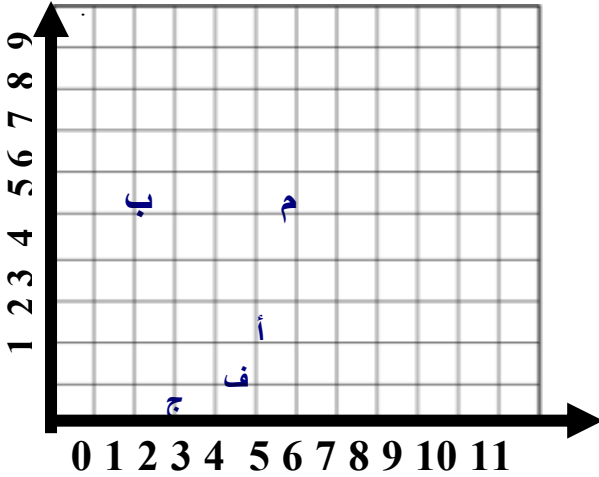
■ لتسمية الزوج المرتب للنقاط التالية :

أ: (،) ب: (،)

● سم النقطة التي يحددها كل من الأزواج المرتبة :

(0 ، 3)

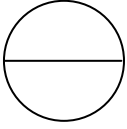
(1 ، 5)



س5: رتبى الأعداد التالية ترتيبا تصاعديا :

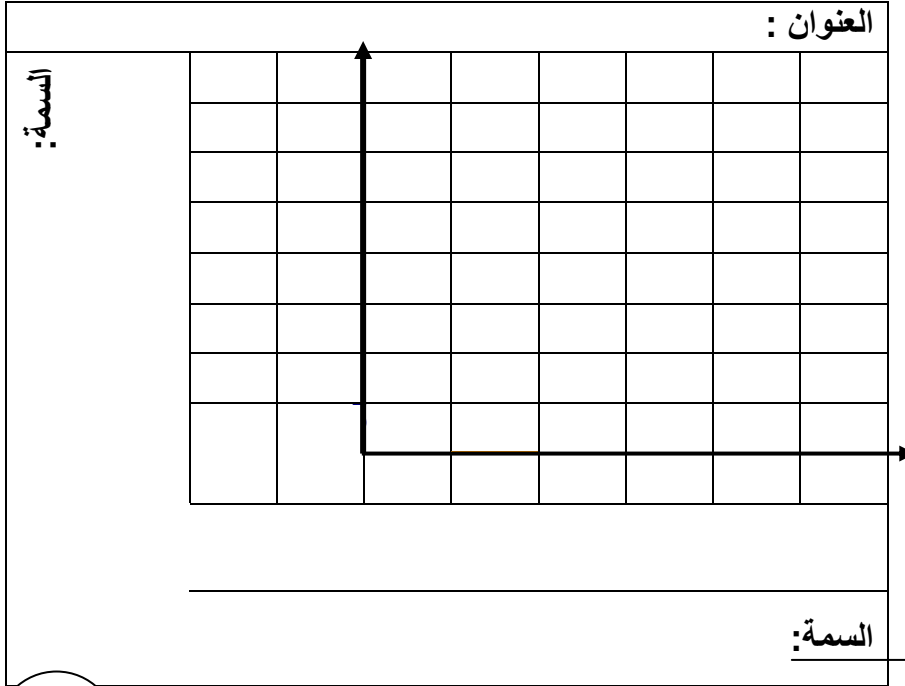
24 169 ، 24 196 ، 2 316 ، 24 166

س6 : إذا قرب العدد 52 899 لأقرب ألف فإن العدد المقرب هو :



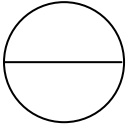
س7: استخدم شبكة المربعات لصنع التمثيل البياني بالأعمدة لمقارنة عدد أسنان بعض من أنواع الحيوانات ، باستخدام البيانات المدونة بالجدول:

الحيوان	عدد الأسنان
الأسد	30
الكلب	20
البقرة	15



س8: ضعي علامة / او x امام العبارة التالية :

- 1- العدد $92\ 922 < 92\ 568$
- 2- القيمة المكانية للرقم 5 في العدد 25 896 هي 500
- ()
- ()



يمثل التمثيل البياني بالصور المواد المفضلة لدى التلاميذ ، من خلال التمثيل البياني بالصور

س9: اختاري الاجابة الصحيحة :

- 1- وزن الفيل يساوي
- 12 كيلو
 - 14 كيلو
 - 8 كيلو

- 2- الحيوان الاقل وزنا هو :
- الفيل
 - الحصان
 - الزرافه

الزرافة	● ● ●
الفيل	■ ● ● ●
البقرة	■ ● ●
الحصان	● ●

كل تمثّل ●

مديرة المدرسة
هيلاء التنيب

رئيسة القسم
حنان الخلف

إعداد المعلمة
فاطمة الحمادي

