



وزارة التربية

٢٠١٢

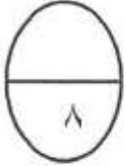
الإدارة العامة لمنطقة العاصمة التعليمية  
مدرسة المأمون الابتدائية بنين

العام الدراسي : ٢٠١١ /

الاسم /

الصف / ٥

اختبار الصف الخامس الابتدائي الفترة الدراسية الأولى الفصل الدراسي الأول



السؤال الأول : أولاً : أوجد الناتج .

$$\begin{array}{r} \textcircled{8} \\ ٠,٦٧ \\ ٣,٨٠ \\ ٢,٣٢ + \\ \hline ٦,٧٩ \end{array}$$

$$\begin{array}{r} ٤٩ \textcircled{10} \\ ٣٥٢٢ \\ ٢٠٦٢ - \\ \hline ١٤٣٨ \end{array}$$

٦

ثانياً : قرب كل عدد إلى منزلة الرقم الذي تحته خط .

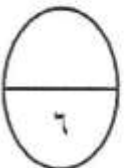
٨١٣ ٥٠٤ ٦٩٧

٨١٣٥٠٠٠

٩,٠٧

٩,١

٢



السؤال الثاني : أولاً: حل المسألة .

دفع صالح ٥٠ ديناراً لشراء لعبة ، أما حسن فقد دفع مبلغاً يزيد بـ ١٥ ديناراً عما دفعة صالح ثمناً للعبة أخرى ، ما مجموع ما دفعة الاثنين معاً ؟

$$\text{ما دفعة حسن} = ٥٠ + ١٥ = ٦٥ \text{ ديناراً}$$

$$\text{مجموع ما دفعة الاثنين} = ٥٠ + ٦٥ = ١١٥ \text{ ديناراً}$$

٤

ثانياً : أكمل ما يلي .



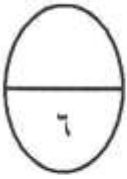
$$10 =$$

$$10 \dots \dots \dots (1)$$

2

السؤال الثالث :

أولاً : أوجد ناتج الضرب .



ⓐ ⓑ

$$\begin{array}{r} 372 \\ 51 \times \\ \hline \end{array}$$

ⓐ

$$\begin{array}{r} 6,12 \\ 7 \times \\ \hline \end{array}$$

$$372$$

$$42,84$$

$$18700 +$$

$$\hline 18972$$

4

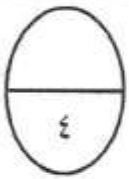
ثانياً : أكمل

$$\underline{10000} =$$

$$5 \times 3000 (1)$$

2

السؤال الرابع : أجب عن الأسئلة التالية .



$$\underline{7000000} = 261209418 \text{ في العدد } 6 \text{ القيمة المكانية للرقم } (1)$$

2

$$\underline{30000} = 70 \times 50 =$$

$$72 \times 47$$

(2) التقدير المناسب لناتج ضرب

2

السؤال الخامس:

6

أولاً: في البنود من ( ١ : ٣ ) ظلل ( أ ) إذا كانت العبارة صحيحة وظلل ( ب ) إذا كانت العبارة غير صحيحة .

ب	أ	الأعداد ٦,٧٣١ ، ٦,٧١٣ ، ٦,٧ مرتبة تصاعدياً	١
ب	ب	نتائج ضرب $٦٣٨,٩ = ١٠٠ \times ٦,٣٨٩$	٢
ب	ب	$٣,٧ = ٥,٣ - ٩$	٣

ثانياً: في البنود من ( ٤ : ٦ ) نكل سؤال ثلاث اختيارات إحداهما فقط صحيحة ظلل دائرة الإجابة الصحيحة .

(١) رمز العدد مليونان وتسعمائة ألف وعشرة هو

- أ) ٢٠٩٠٠١٠    ب) ٢٠٩٠٠٠١٠    ج) ٢٩٠٠٠١٠    د) ٢٩١٠

(٥) المضاعف المشترك الأصغر للعددين ٤ ، ٥ هو

- أ) ٩    ب) ٤٠    ج) ٢٠    د) ٥

(٦) إذا كان  $١٠٠٠٠ = ف٤$  فإن  $ف =$

- أ) ٤    ب) ١٠    ج) ١٠٠    د) ٣

٣

الدرجة

٣٠

مع تمنيات قسم الرياضيات بالتوفيق والنجاح ...  
مدرسة المأمون الابتدائية للبنين .....